
























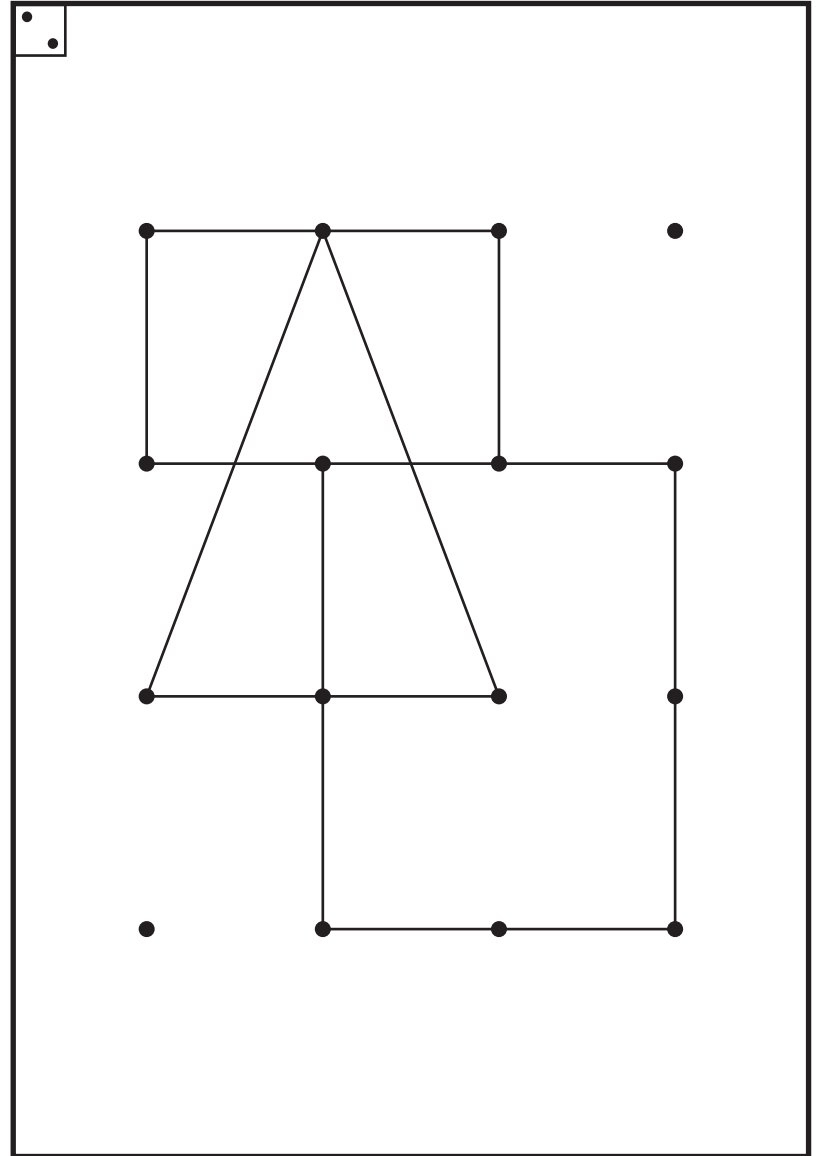
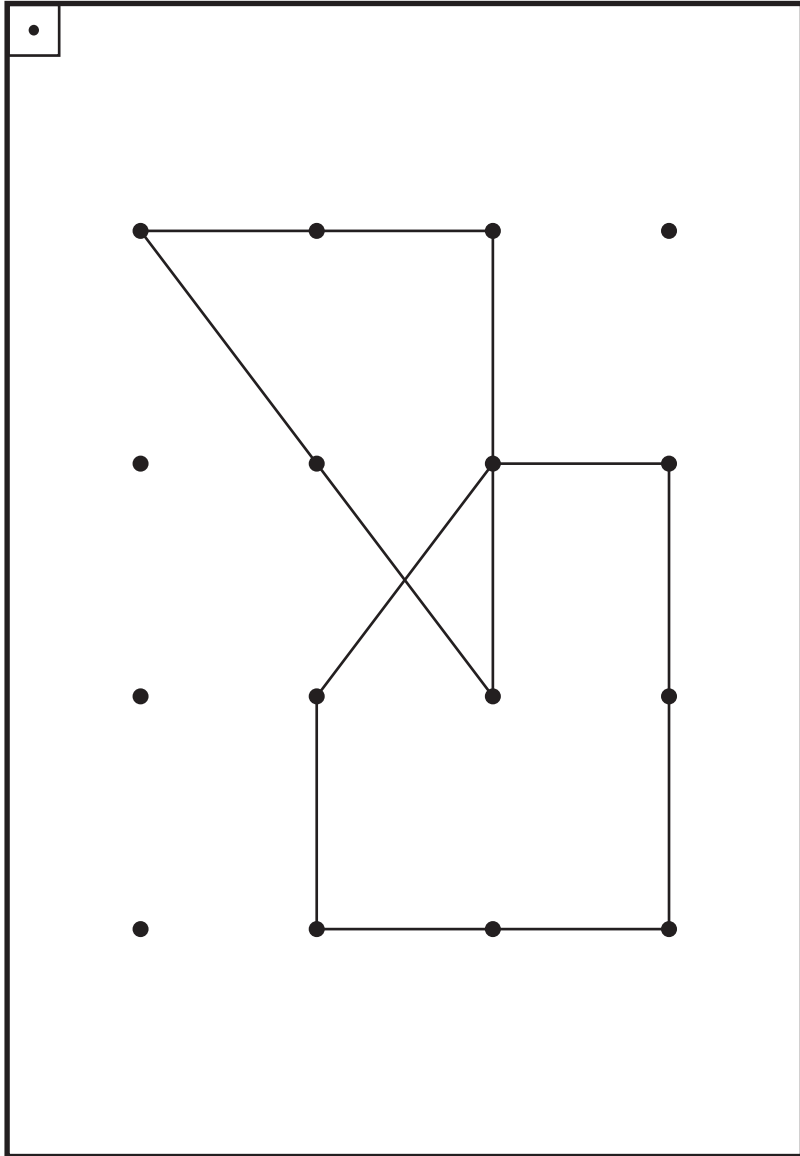


| | | 1 | | 2 | | 3 | | 4 | |
|-----|-------|---|-----|---|------------|---|------|---|--------------|
| 領域 | 学習日 | 月 日 | | 月 日 | | 月 日 | | 月 日 | |
| | | 月 日 | | 月 日 | | 月 日 | | 月 日 | |
| 1 | 記憶 | 聴覚的記憶 お話の後に問題を出しますので、 プリントは伏せておきます。 | P.1 | 視覚的記憶 1 Aを20秒間見せた後で、1 Bの 問題を解きます。 | P.7 P.8 | 聴覚的記憶 お話の後に問題を出しますので、 プリントは伏せておきます。 | P.14 | 視覚的記憶 1 Aを20秒間見せた後で、1 Bの 問題を解きます。 | P.20 P.21 |
| 2 | 位置・思考 | 系 列 | P.2 | 方向知覚 | P.9 | 不合理の発見 | P.15 | 鏡 絵 | P.22 |
| 3 | 数量 | いくつ | P.3 | 何番目に多い / 少ない | P.10 | 同数発見 | P.16 | 上下前後から何番目 | P.23 |
| 4 | 構成 | 図形の合成・分解 | P.4 | 同類図形 | P.11 | 重なり図形 | P.17 | 点描写 | P.24 |
| 5 | 知識・常識 | 仲間はずれ | P.5 | 道 徳 | P.12 | 生物学的常識 | P.18 | 季節感 | P.25 |
| 6 | 言語 | 童話・昔話 | P.6 | しりとり | P.13 | 童話・昔話 | P.19 | 話の判断 | P.26 |
| 備 考 | | | | | | | | | |

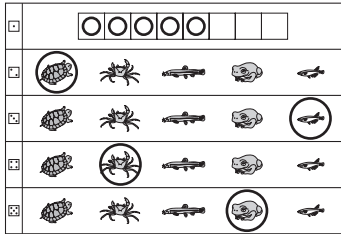
| | | | | | | | | | | | | | |
|---|--|---|--|---|---|--|--|--|--|--|--|--|--|
|  | <table border="1" data-bbox="494 161 1537 293"><tr><td></td><td></td><td></td><td></td><td></td><td></td><td></td><td></td></tr></table> | | | | | | | | | | | | |
| | | | | | | | | | | | | | |
|  |  |  |  |  |  | | | | | | | | |
|  |  |  |  |  |  | | | | | | | | |
|  |  |  |  |  |  | | | | | | | | |
|  |  |  |  |  |  | | | | | | | | |



1-1

聴覚的記憶

解答



プリントは伏せておきます。

今からお話をします。お話の後で問題を出しますので、よく聞きましょう。

お話「川の中のかくれんぼ」

川の中でカメとメダカとドジョウとカエルとカニが、かくれんぼをすることになりました。カメが鬼になり、目を閉じて10まで数えている間に、みんなはあちこちに散らばって隠れました。カメは、みんなを探し始めてすぐに、水草のかげに隠れているメダカを見つけました。次に、岩のかげにひっそりと隠れていたカニを見つけました。ドジョウは泥の中に上手に隠れていましたが、泥をひとかきしたカメに見つけられてしまいました。カエルは川の中から地上へ出ていたので、最後まで見つかりませんでした。それを知らないカメは、日が暮れるまで川の中でカエルを探し続けました。

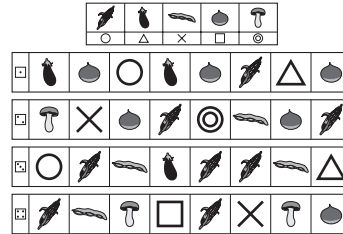
問題

- かくれんぼをした生き物の数だけ□の中に○をかきましょう。
- 鬼になった生き物に○をつけましょう。
- 一番初めに見つかった生き物に○をつけましょう。
- 岩のかげに隠れていた生き物に○をつけましょう。
- 最後まで見つからなかった生き物に○をつけましょう。

1-2

系列

解答



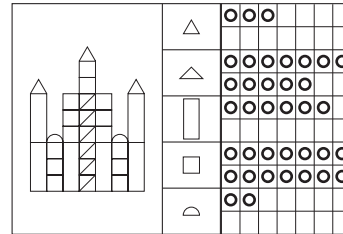
問題

下の絵は、ある約束で並んでいます。空いているところにはどんな食べ物が入るでしょうか。上のお手本の下にかいてある印をかきましょう。

1-3

いくつ

解答




問題

左の積み木の形をそれぞれ数えて、その数だけ○をかきましょう。

1-4

図形の合成・分解

解答



問題

左の形を作るには、どの形があるでしょうか。右から見つけて○をつけましょう。